

ΜΑΘΗΜΑΤΙΚΑ

1. Κοιτάζω

καλά τα σχέδια και υπολογίζω το αποτέλεσμα:


 = 5  = 7  = 3



 +  +  =

 +  +  =

 -  =

 -  =

 +  +  +  =

 -  =

 +  =

2. Κάνω τις πράξεις:

$3 + 4 + 6 =$

$8 + 6 + 7 =$

$7 + 5 + 3 =$

$4 + 4 + 5 =$

$9 + 5 + 1 =$

$8 + 9 + 8 =$

$4 + 5 + 9 =$

$6 + 1 + 2 =$

$6 + 5 + 5 =$

$6 + 6 + 5 =$

$3 + 2 + 5 =$

$4 + 3 + 2 =$

$4 + 3 + 3 =$

$9 + 0 + 3 =$

$9 + 1 + 4 =$

3. Συνεχίζω κάνοντας κι άλλες πράξεις:

$20 - 3 =$	$30 - 5 =$	$22 - 2 =$	$25 - 5 =$
$15 - 5 =$	$16 - 6 =$	$18 - 8 =$	$18 - 3 =$
$19 - 6 =$	$20 - 4 =$	$12 - 2 =$	$34 - 4 =$
$16 - 5 =$	$17 - 5 =$	$11 - 5 =$	$40 - 5 =$

4. Συμπληρώνω ό,τι λείπει:

$5 + \dots = 10$	$6 - \dots = 3$	$5 + 6 + \dots = 15$
$6 + \dots = 12$	$8 - \dots = 5$	$\dots + 3 + 6 = 14$
$3 + \dots = 14$	$12 - \dots = 5$	$\dots + 7 + 8 = 20$
$4 + 4 + \dots = 10$	$\dots - 6 = 4$	$9 + 5 + 4 + \dots = 20$
$5 + 5 + 5 + \dots = 20$	$\dots - 8 = 8$	$6 + 5 + 2 + \dots = 17$

5. Βάζω τους αριθμούς στη σειρά ξεκινώντας από τον μικρότερο:

13 14 16 17 15 12 11 18

.....

22 24 26 25 29 23 28 27

.....

10 5 6 9 8 2 4 3 7

.....

ΛΥΝΩ ΤΟ ΠΡΟΒΛΗΜΑ:

Ο Μοχάμεντ πηγαίνει στο βιβλιοπωλείο και αγοράζει: μία κασετίνα, 3 μολύβια 2 γόμες, ένα βιβλίο και 2 τετράδια.

A) Πόσο κοστίζουν τα πράγματα που αγόρασε:

B) Αν στο ταμείο δώσει 50 ευρώ, πόσα ρέστα θα πάρει:

Κασετίνα 8 ευρώ	μολύβι (το ένα) 1 ευρώ	γόμα 1 ευρώ
Βιβλίο 12 ευρώ	τετράδιο (το ένα) 2 ευρώ	

ΛΥΣΗ:

ΑΠΑΝΤΗΣΗ: